

















# Lire l'heure et connaître les mesures de durées

1- Entoure l'heure indiquée par ses horloges.

 22 h 15    9 h 15	 14 h 45    2 h 09	 7 h 30    19 h 06	 4 h 00    16 h 03
 10 : 02    22 : 10	 17 : 48    6 : 10	 2 : 17    19 : 13	 12 : 58    00 : 00

2- Trace les aiguilles.

 12 h 25 min	 13 h 40 min	 16 h 50 min	 6 h 5 min
 8 : 15	 17 : 49	 22 : 55	 0 : 34

3- Complète.

1h = ..... min	1 semaine = ..... jours
1 min = ..... sec	1 jour = ..... h
1 an = ..... mois	1 an = ..... jours
1 siècle = ..... ans	1 mois = ..... ou ..... ou ..... jours
1 trimestre = ..... mois	

4. Ajoute la durée pour trouver l'instant final.

Il est 3 h 50. Dans 2 h, il sera .....

Il est 15 h 24. Dans 25 min, il sera .....

Il est 8 h 27. Dans 2 h 20 min, il sera .....

⤴ Il est 15h25. Dans 1 h 40, il sera ..... donc .....