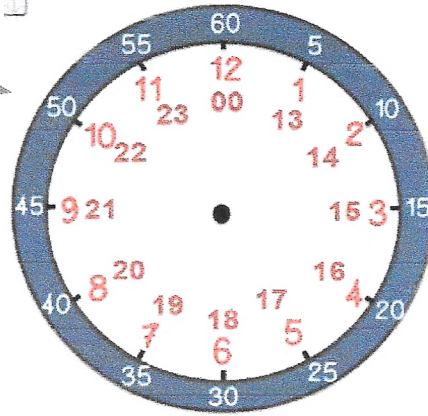



Si tu as besoin d'aide :

- en rouge,
- pour les heures du matin et
- pour les heures de l'après-midi

- en blanc sur fond bleu,
- pour les minutes



- A. Quatre élèves ont pris rendez-vous chez le médecin.
 Mathis a rendez-vous à 9 h 15.
 Jade a rendez-vous à 14 h 25.
 Samir a rendez-vous à 10 h 40.
 Manon a rendez-vous à 16 h 45.



- Écris le nom de chaque enfant à côté de l'horloge correspondant à son heure de rendez-vous.



matin

Mathis




matin

Samir



après-midi

Jade



après-midi


Manon

- B. Le médecin a reçu son premier patient de l'après-midi de 13 h 00 à 13 h 20.
 Quelle est la durée de la consultation en min ?


- Dessine les aiguilles sur les horloges.

- Réponds par une phrase complète.

début



fin




La consultation a duré 20 minutes.

12h

13h

14h



Colorie les cases dont le résultat est 1 000. (Si tu as besoin, pose et effectue l'opération.)

1 000 + 0	872 + 987	200 + 600	10 + 10	222 + 222	10 + 980	500 + 100	100 + 100
950 + 50	234 + 444	100 + 100	200 + 500	999 + 1	778 + 222	667 + 333	792 + 208
200 + 800	2 + 76	208 + 986	100 + 800	328 + 672	1 + 998	20 + 100	10 + 990
400 + 600	90 + 10	123 + 456	200 + 700	100 + 900	200 + 500	500 + 500	132 + 868