



## Découvrir

Aurèl et Charlie sont tous les deux allés de Paris à Marseille, mais avec des moyens de transport différents.

A. Aurèl a pris le TGV. Il est parti à 15 h et son voyage a duré 3 h et 20 min. À quelle heure Aurèl est-il arrivé ?



- **Entoure** dans l'énoncé les mots qui t'indiquent que c'est un problème sur les durées.
- **Aide-toi** du schéma pour répondre à la question.


  $15\text{ h} + 3\text{ h} 20\text{ min} = 18\text{ h} 20$   
Aurèl est arrivé à 18 h 20.



B. Charlie a voyagé en avion. Elle a décollé à 18 h 50 à l'aéroport de Paris-Roissy et a atterri à Marseille à 19 h 40. Quelle a été la durée de son voyage ?



**Observe** le schéma, puis **résous** le problème.

  $10\text{ min} + 40\text{ min} = 50\text{ min}$   
Son voyage a duré 50 min.

Attention au vocabulaire  
qui indique un problème  
sur les durées !

